

Oddział Międzyuczelniany PTTK w Warszawie

Egzamin poprawkowy na Organizatora Turystyki - 5.06.2003 r.

Egzamin składa się z 21 pytań pogrupowanych w 6 działów.

Punktacja dla poszczególnych pytań została przedstawiona obok.

Zaliczenie egzaminu polega na uzyskaniu ze wszystkich działów co najmniej po 61 punktów.

Uprzejmie prosimy o udzielanie odpowiedzi tylko w ramach wyznaczonych do tego celu miejsc i o pisanie w sposób czytelny.

Powodzenia

Architektura		
1		50
2		20
3		30
razem		100
Historia turystyki i PTTK		
4		20
5		10
6		30
7		20
8		20
razem		100
Pierwsza pomoc		
9		16
10		36
11		48
razem		100
Etnografia i budownictwo drewniane		
12		16
13		48
14		10
15		26
razem		100
Przyroda i ochrona przyrody		
16		32
17		12
18		33
19		23
razem		100
Geografia turystyczna Polski		
20		32
21		68
razem		100

Architektura

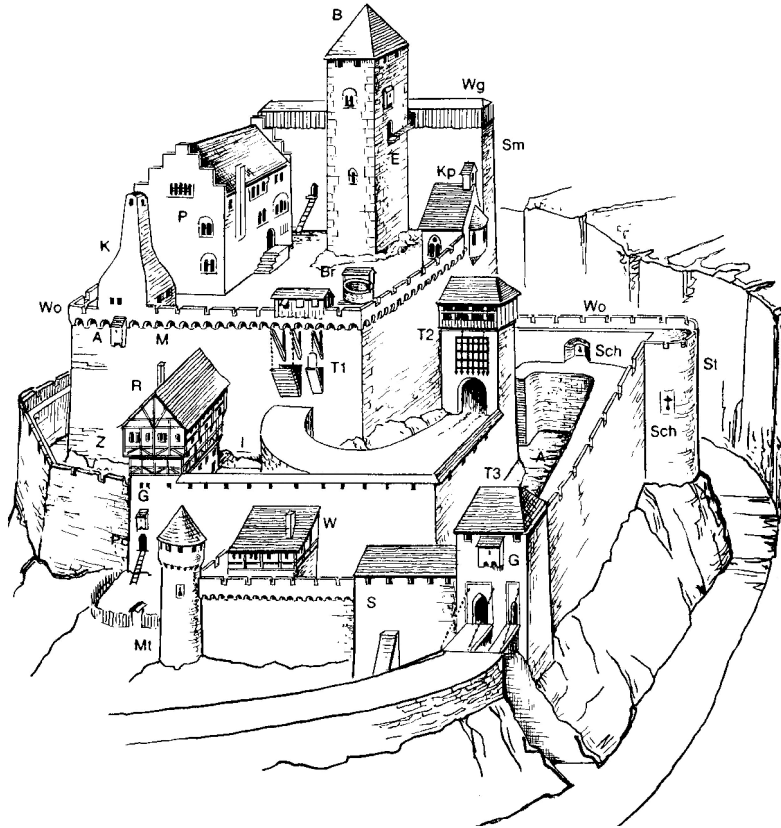
Pytanie 1



Opisz w 100 słowach obiekt przedstawiony na rysunku.

Uwaga: sprawdzający będzie czytał odpowiedź tylko do setnego słowa.

Pytanie 2



Zidentyfikuj i nazwij 10 elementów zamku średniowiecznego używając symboli z rysunku.

Pytanie 3








Wybierz trzy obiekty zidentyfikowane w odpowiedzi na poprzednie pytanie i dla każdego z nich podaj opis jego funkcji.

	nazwa	opis funkcji
1.		
2.		
3.		

Historia turystyki i PTTK

Pytanie 4

Zidentyfikuj odznaki turystyki kwalifikowanej i krajoznawcze przedstawione poniżej:

Pytanie 5

Opisz jakie uprawnienia posiada a) organizator turystyki, b) przewodnik turystyki kwalifikowanej?

a)	
b)	

Pytanie 6

Wymień **pełne** nazwy sześciu kół należących do Oddziału Międzyuczelnianego PTTK w Warszawie.

Pytanie 7

Opisz krótko, czym dla polskiej turystyki zasłużyli się:

Pytanie 8

Wyjaśnij znaczenie następujących skrótów związanych z PTTK.

Pierwsza pomoc

Pytanie 9

Co powinni zabrać ze sobą i jak powinni być ubrani uczestnicy jednodniowej dziesięcioosobowej wycieczki sylwestrowej z Wysowej na Lackową (i z powrotem).

--

Pytanie 10

Wymień 12 najbardziej niezbędnych Twoim zdaniem rzeczy, jakie powinny znaleźć się w apteczce dziesięcioosobowej grupy wybierającej się na siedmiodniowy rajd sylwestrowy w Beskidzie Niskim.

Pytanie 11

Wypełnij poniższą tabelę:

przypadłość	przeciwdziałanie	leczenie

Etnografia i budownictwo drewniane

Pytanie 12

Podaj przykłady trzech skansenów w Polsce, krótko charakteryzując jeden z nich (np. położenie, rodzaj zbiorów).

1)	2)
3)	

Pytanie 13



Opisz w 100 słowach obiekt przedstawiony na rysunku (w tym konstrukcję ścian i dachu).

Uwaga: sprawdzający będzie czytał odpowiedź tylko do setnego słowa.

Pytanie 14

Wybierz pięć z wymienionych poniżej nazw i podaj ich krótką definicję:

babiniec, budynek dwutraktowy, gont, jętka, kluczyna, lamus, macewa, płatew, rzygacze, sumik, ślenie, węgieł.

Pytanie 15

Scharakteryzuj dowolnie wybraną mniejszość wyznaniową zamieszkującą Polskę, uwzględniając m.in. religię, rejony zamieszkania (obecnie i w przeszłości), charakterystyczne cechy wspólnoty wyznaniowej, kultury, zabytki związane z tym wyznaniem itp.*

--

* Zastanów się dokładnie chodzi o mniejszość wyznaniową.

Przyroda i ochrona przyrody

Pytanie 16

Opisz podstawowe różnice w sposobie ochrony przyrody w parku narodowym, a w parku krajobrazowym.

--

Pytanie 17

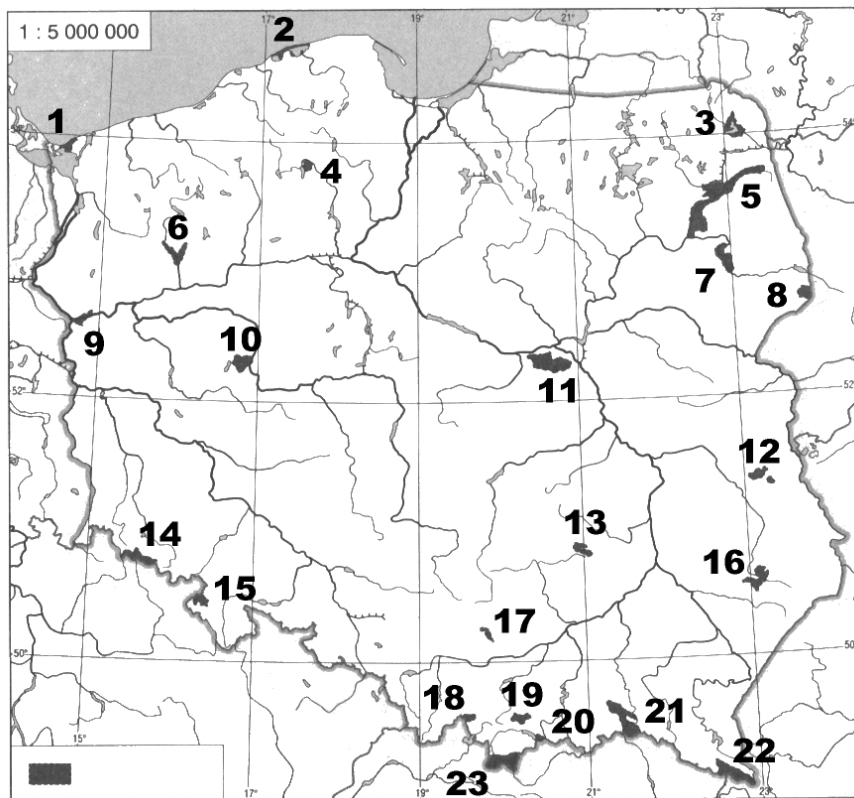
Wymień cztery znane Ci rezerваты, w których nie jest chroniona fauna i flora, określ ich położenie i opisz co w nich jest chronione.

Pytanie 18

Opisz dowolny park narodowy w Polsce uwzględniając położenie, walory przyrodnicze i turystyczne, zagospodarowanie turystyczne.

--

Pytanie 19



Podaj nazwy zaznaczonych na mapie parków narodowych:

1.		2.	
3.		4.	
5.		6.	
7.		8.	
9.		10.	
11.		12.	
13.		14.	
15.		16.	
17.		18.	
19.		20.	
21.		22.	
23.			

Geografia turystyczna Polski

Pytanie 20

Zaznacz na poniższej mapie Polski położenie szesnastu wybranych z poniższej listy miejsc:



- | | |
|----------------------|------------------|
| 1. Babia Góra (1725) | 2. Gniezno |
| 3. Elbląg | 4. Kartuzy |
| 5. Góry Stołowe | 6. Kielce |
| 7. Jezioro Hańcza | 8. Kołobrzeg |
| 9. Kalisz | 10. Nowy Sącz |
| 11. Pieniny | 12. Olsztyn |
| 13. Przemyśl | 14. Pelplin |
| 15. Sandomierz | 16. Szczepieszyn |
| 17. Żelazowa Wola | 18. Warszawa |
| 19. Żuławy | 20. Włocławek |

Pytanie 21

Wybierz 17 szczytów i uzupełnij poniższą tabelę: Cergowa, Czupel, Krawców Wierch, Kremenaros, Kudłoń, Mogielica, Radziejowa, Rotunda, Runek, Skrzyczne, Szczeliniec Wielki, Szrenica, Śnieżka, Śnieżnik, Wysoka,

	szczyt	grupa górską	wysokość
1.			
2.			
3.			
4.			
5.			
6.			
7.			
8.			
9.			
10.			
11.			
12.			
13.			
14.			
15.			
16.			
17.			